



11課 **Unidade 11**
ようごとぶん **Vocabulários e frases**

ようご	Vocabulários
わける	Dividir
あわせる	Somar, adicionar, juntar
もとめる	Procurar
ほうほう	Modo, jeito, método (de calcular, fazer)
くらべる	Comparar
ちがう	Diferente
まず	Primeiro, primeiramente
つぎに	Em seguida
さいごに	Por último
こたえをだす	Dar a resposta, apresentar a solução

ぶん	Frases
わけて あわせて	Dividir e somar/juntar
みかんの かずを かけざんで もとめましよう。	Vamos procurar o número de tangerinas / mexericas fazendo uma multiplicação.
こんな ほうほうが あります。	Temos esse modo(de calcular).
たした かずと 8×6の こたえを くらべましよう。	Vamos comparar a soma dos números com a resposta de 8×6.
ちがいますか。	É diferente?
まず、7×6の こたえを だします。	Primeiro, dê a resposta de 7×6.
つぎに、4×6と 3×6の こたえを だして みましよう。	Em seguida, vamos dar a resposta de 4×6 e 3×6.
さいごに、こたえを だして みましよう。	Por último, vamos apresentar a solução.

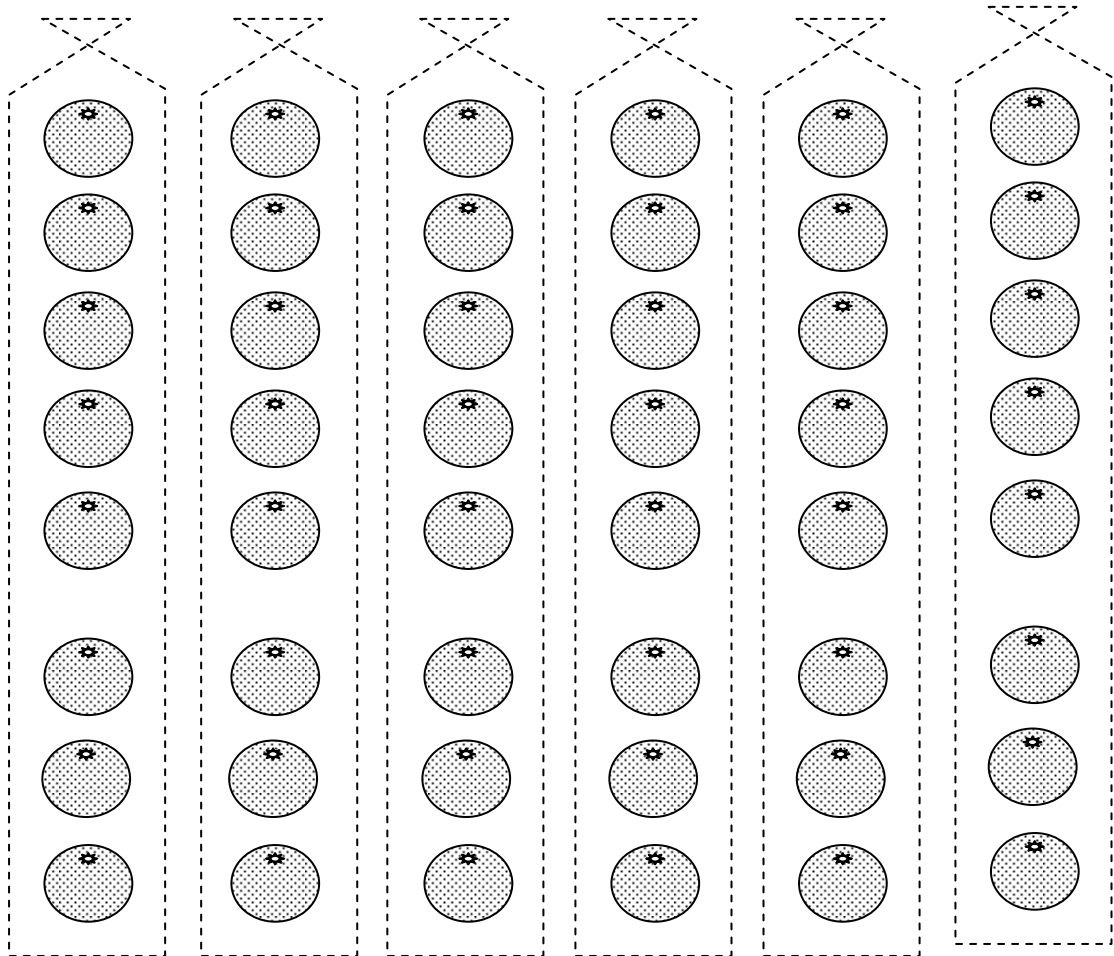
1

数がたくさんある場合の掛け算

みかんが たくさん



みかんは いくつ あるでしょうか。

みかんの かずを かけざんで もとめましょう。



8こずつ 6ふくろぶん だから

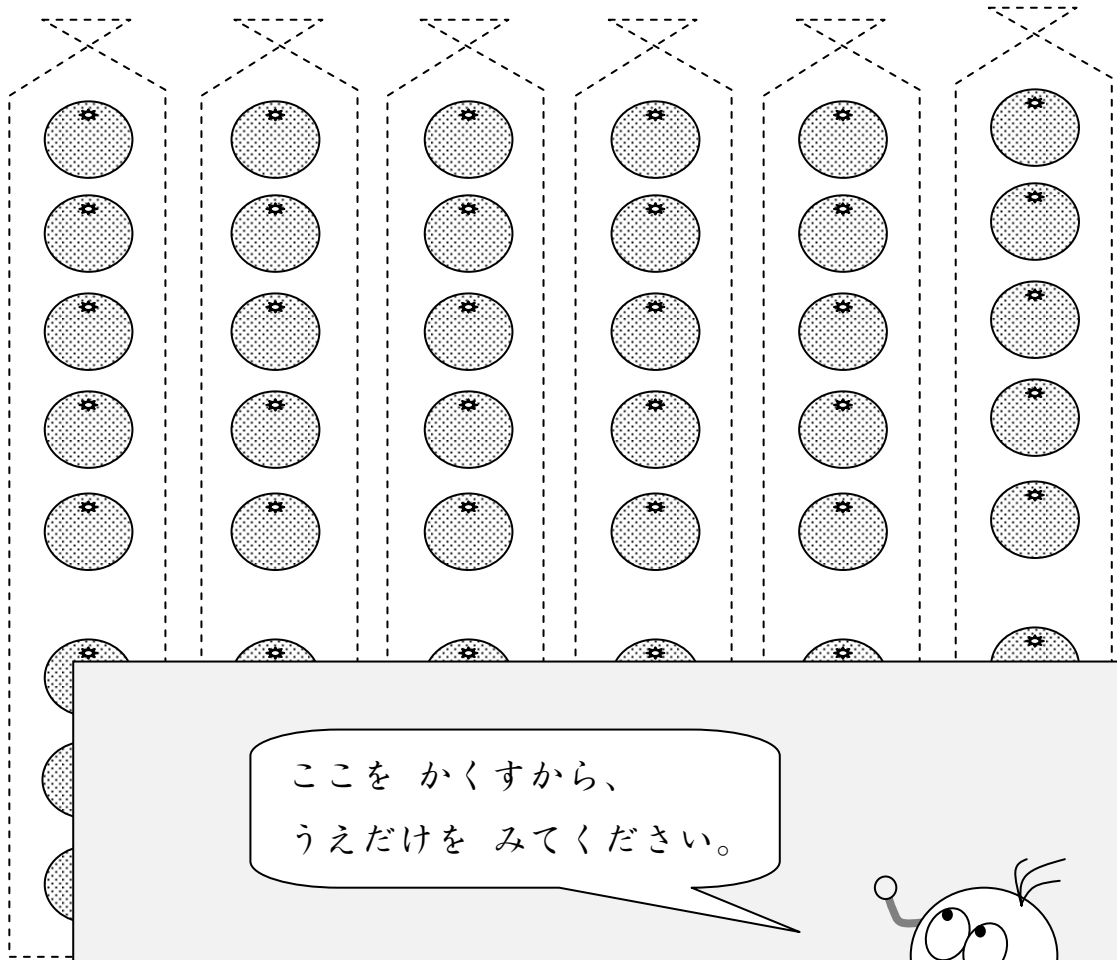

$$\square \times \square = \square$$




2

わけて けいさん

8 × 6 の こたえが わからなくても
 こんな ほうほうが あります。





ここを かくすから、
 うえだけを みてください。



5こずつ 6ふくろぶん だから


$$\square \times \square = \square$$





3こずつ 6ふくろぶん だから

$$\square \times \square = \square$$




うえと したを たしましょう。

うえの かず \Rightarrow 30

したの かず \Rightarrow +18

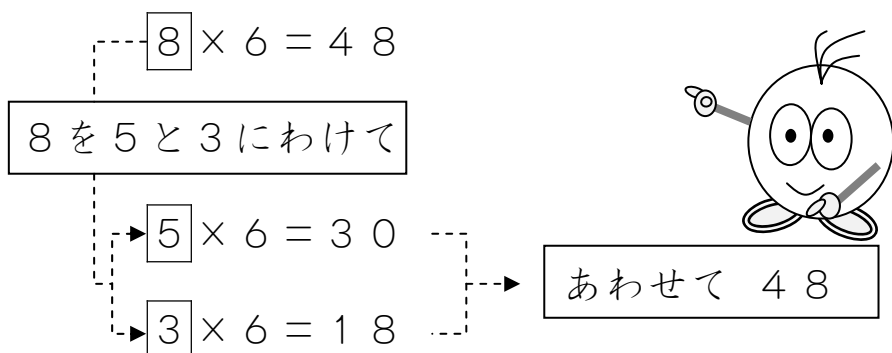
たしたかずと
8×6のこたえを
くらべてみましょう。



おなじですか。
ちがいますか。

4

このことをしきであらわすと



このことをぶんにししましょう。

8×6のこたえは、

5×6のこたえと

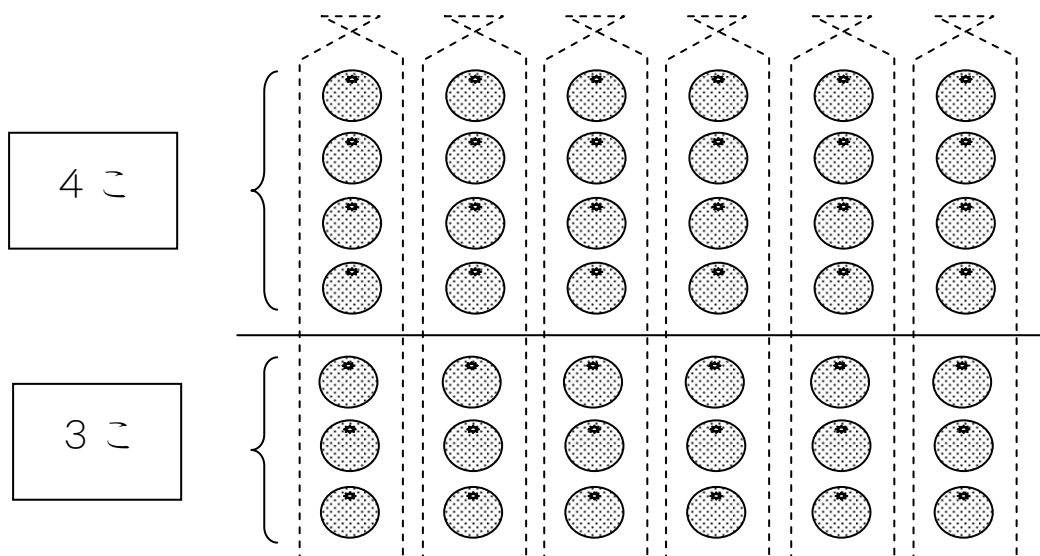
3×6のこたえをあわせたかずです。

5

ほかのばあいもおなじでしょうか？

7こずつ6ふくろのばあいはどうでしょうか。

7こを4こと3こにわけてたしかめてみましょう。




7こずつ 6ふくろの ばあい

①まず、 7×6 の こたえを だします。

$$7 \times 6 = \boxed{42}$$

②つぎに、 4×6 と 3×6 の こたえを だしてみましょう。

$$\begin{array}{l} 4 \times 6 = \boxed{} \\ 3 \times 6 = \boxed{} \end{array} \rightarrow \boxed{}$$


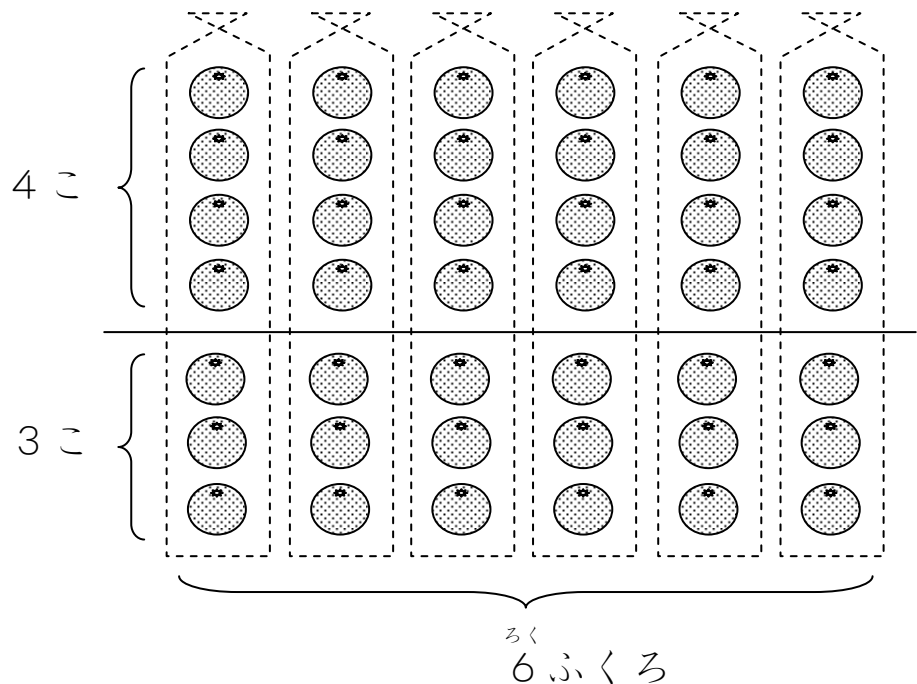
③さいごに、こたえを たしてみましょう。

このことを ぶん に しましょう。

$\boxed{} \times \boxed{}$ の こたえは、

$\boxed{} \times \boxed{}$ の こたえと

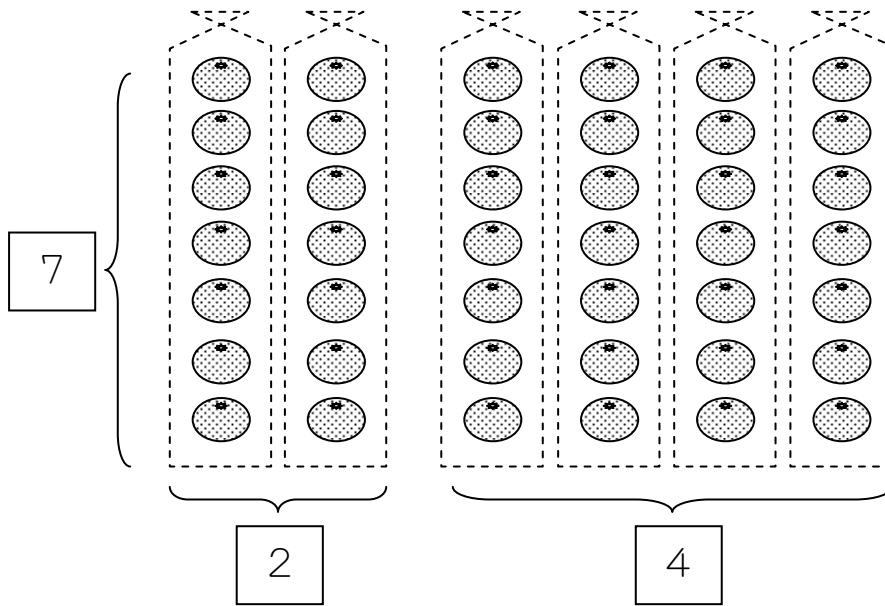
$\boxed{} \times \boxed{}$ の こたえを あわせた かずです。



こんなふうに わけたら どうなるでしょうか？

7こずつ 6ふくろを

2ふくろと 4ふくろに わけて けいさん。



たしかめて みましょう。


①まず、 7×6 の こたえを だします。

$$7 \times 6 = \boxed{}$$

②つぎに、 7×2 と 7×4 の こたえを だしてみましよう。

$$7 \times 2 = \boxed{}$$

$$7 \times 4 = \boxed{}$$



③さいごに、こたえを たしてみましよう。