



9課

Unidade 9

ようごとぶん

Vocabulários e frases

ようご	Vocabulários
なんばい	Quantas vezes
3ばい	Três vezes, o triplo
もつ	Ter
はがき	Cartão
ミニカー	Mini-carro
だい	Sufixo usado para contar máquinas como carros
にじゅうとび	Técnica de pular corda onde se movimenta a corda pulando-a dar duas voltas enquanto se pula uma vez.
かい	Vezes
リボン	Fita, laço

ぶん	Frases
おとうとは わたしの なんばい (のクッキーを) もっていますか。	Meu irmão mais novo tem quantas vezes mais bolachas que eu?
いもうとは わたしの3ばい (のクッキーを) もっています。	Minha irmã mais nova tem 3 vezes mais bolachas que eu.
おにいさんは ミニカーを 24だい もっています。	Meu irmão mais velho tem 24 mini-carros.
おにいさんは にじゅうとびが 36かい できます。	Meu irmão mais velho consegue pular duas voltas seguidas da corda enquanto se pula uma vez ("nijyutobi") 36 vezes.

(注)塗り潰し部分は「ものの数え方」に関する日本語です。

9

なんばい①

元の数の何倍かを割り算で求める方法

1

「A倍」の概念を思い出す①

わたしは クッキーを 4こ もっています。


いもうとは わたしの 3ばい もっています。

いもうとは クッキーを なんこ もっていますか。




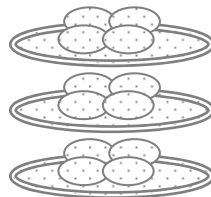
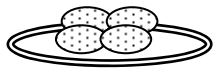
わたしは 4こ

わたしの 3ばい



いもうとは

こ



2

「A倍」の概念を思い出す②


おにいさんは わたしの 4ばい もっています。

おにいさんは なんこ もっていますか。



わたしは 4こ

わたしの 4ばい



おにいさんは

こ

3


おとうとは 20こ もっています。

おとうとは わたしの なんばい もっていますか。



わたしは4こ わたしの ばい → おとうとは20こ


あれ？ かけざんでは こたえが でませんね。



かけざんを はんたいに すると、
わりざんに なったのを おぼえていますか。



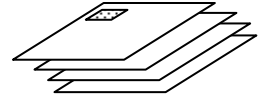
おとうどの かずを	わります <input type="text"/>	わたしの かずで	すると →	なんばいか わかります
--------------	------------------------------	-------------	----------	----------------



4

おとうさんは はがきを 24まい もっています。

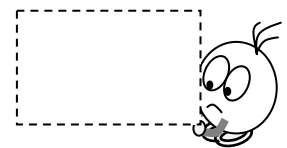
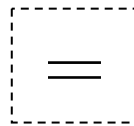

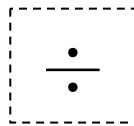

わたしは 4まい もっています。



おとうさんは わたしの なんばい はがきを もっていますか。



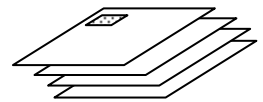
おとうさんの かずを	わります □□□□	わたしの かずで	すると →	なんばいか わかります
---------------	--------------	-------------	----------	----------------



5

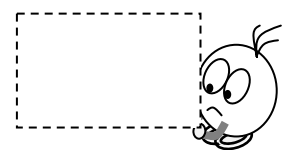
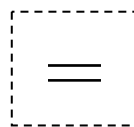

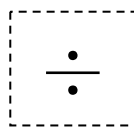

おかあさんは はがきを 28まい もっています。

わたしは 4まい もっています。



おかあさんは わたしの なんばい はがきを もっていますか。

おかあさんの かずを	わります □□□□	わたしの かずで	すると →	なんばいか わかります
---------------	--------------	-------------	----------	----------------

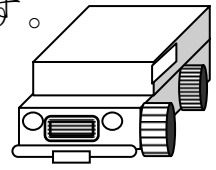


6


おにいさんは ミニカーを 24だい もっています。

ぼくは 8だい もっています。

おにいさんは ぼくの なんばい もっていますか。



□□□□□の かずを	わります □□□□	□□の かずで	すると →	なんばいか わかります
	÷		=	




7


おにいさんは にじゅうとびが 36かい できます。

ぼくは 9かい できます。

おにいさんは ぼくの なんばい できますか。



□□□□□の かずを	わります □□□□	□□の かずで	すると →	なんばいか わかります
	÷		=	



8

おねえさんは にじゅうとびが 32かい できます。

わたしは 4かい できます。

おねえさんは わたしの なんばい できますか。



□ □ □ = □

□ ばい

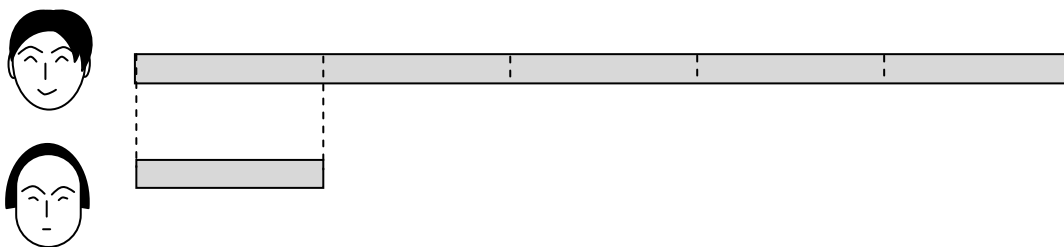
9

おねえさんのリボンは 40cmです。

わたしのは 8cmです。



おねえさんのリボンは わたしの なんばい ですか。



□ □ □ □ □

□ ばい