



10課 / Lesson 10 / Leksyon 10

ようごとぶん / Words and phrases / Mga Salita

ようご	Words	Mga salita
しょうすう	decimal	decimal
いみ	meaning	kahulugan / ibig sabihin
かんたん	easy	madali
なおしかた	the way to correct / the way to change / the way to transform	paraan ng pag-aayos
やりかた	method / way to do	paraan

ぶん	Phrases	Grupo ng mga salita
ぶんすうをしょうすうに なおしましょう。	Change fraction into decimal.	Ayusin sa decimal ang fraction.
0.3は0.1が3こという いみです。	It means that 0.3 has three 0.1.	Nangangahulugan na ang 0.3 ay may tatlong 0.1.
かんたんなおしかたが あります。	There is an easy way to change.	May madaling paraan ng pag-aayos.
おなじやりかた	the same method	parehong paraan

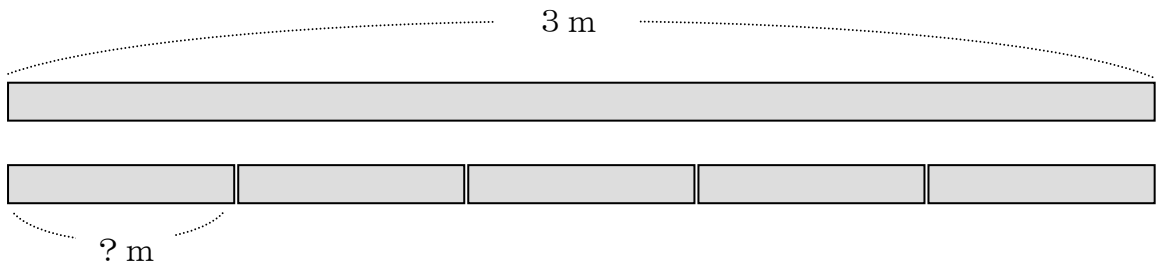
10 ぶんすうと しょうすう

1

分数を小数で表わす方法を知る。

3 m の テープを 5 とうぶんしました。

1 ぽんの ながさは なん m ですか。



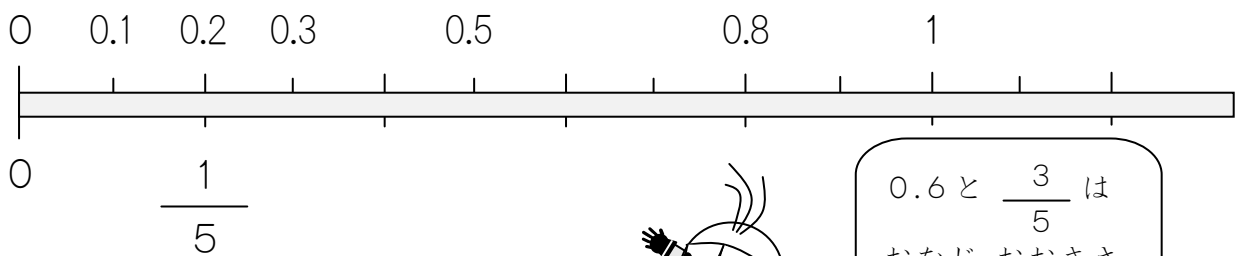
(しき) $3 \div 5 =$

(こたえ) しょうすうだと 0.6 ぶんすうだと $\frac{3}{5}$

$$\begin{array}{r} 0.6 \\ 5 \overline{) 30} \\ \underline{30} \\ 0 \end{array}$$

$$3 \div 5 = \frac{3}{5}$$

0.6 m は どこですか。 $\frac{3}{5}$ m は どこですか。




0.6 と $\frac{3}{5}$ は
おなじ おおきさ
ですね。

2

$\frac{2}{5}$ を しょうすうに なおしましょう。

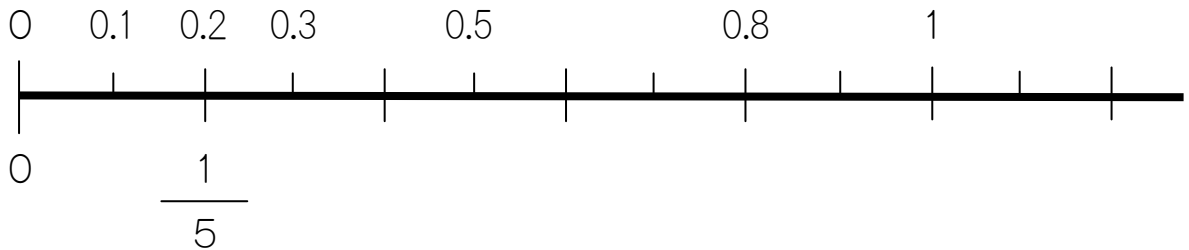
$$\frac{2}{5} = 2 \div 5$$



(うえ) ÷ (した) の
けいさんをすると、
しょうすうに なおす
ことができます。

$$2 \div 5 = 0.4$$

$\frac{2}{5}$ は どこですか。0.4は どこですか。



つぎの ぶんすうを しょうすうに なおしましょう。

★しょうすうの けいさんが おずかしいときは、
でんたくを つかってもいいです。

① $\frac{2}{4} = \square \div \square$

② $\frac{4}{5} = \square \div \square$

③ $\frac{6}{5}$

④ $\frac{9}{6}$

3


0.3を ぶんすうに なおしましょう。


0.1と $\frac{1}{10}$ は、おなじ おおきさです。

0.3は「0.1が 3こ」という いみですから、

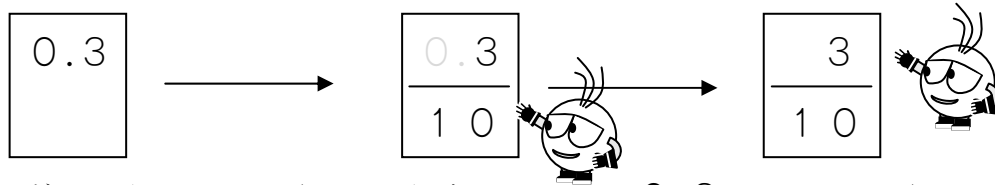
「 $\frac{1}{10}$ が 3こ」という いみと おなじです。

「 $\frac{1}{10}$ が 3こ」で、 $\frac{3}{10}$ になります。

$$0.3 = \frac{3}{10}$$


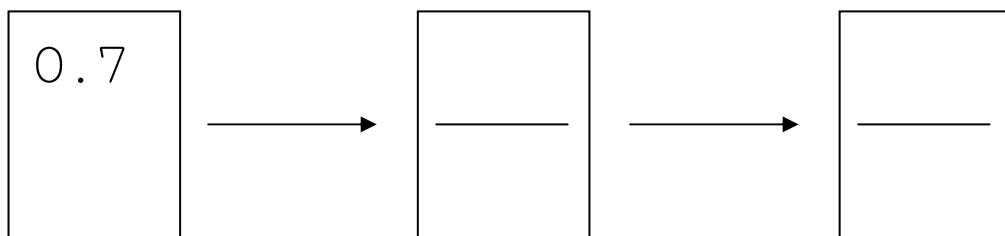


かんたんな なおしかたが あります。



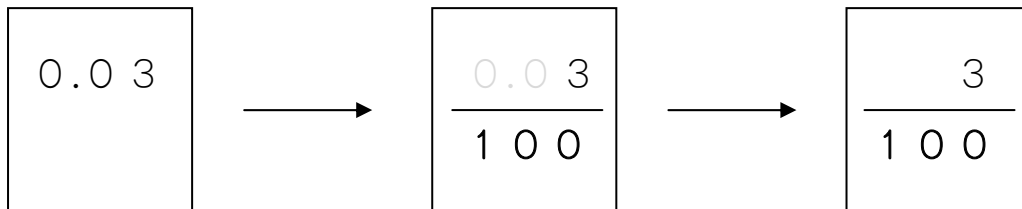
まず、したに 10をかきます。つぎに、0.3の0と. をとります。

この やりかたで、つぎの しょうすうを ぶんすうに なおし
ましょう。



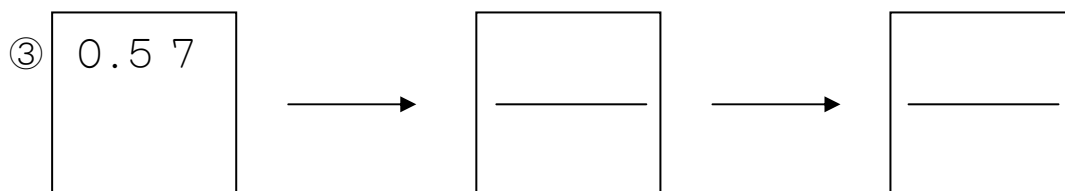
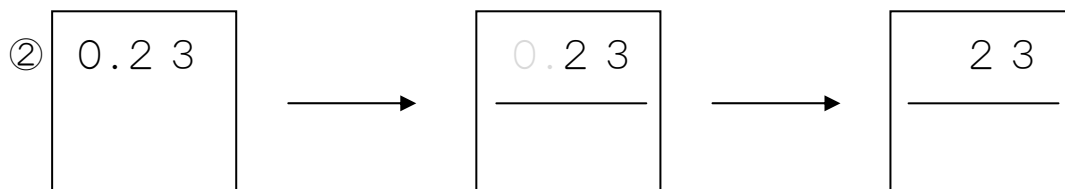
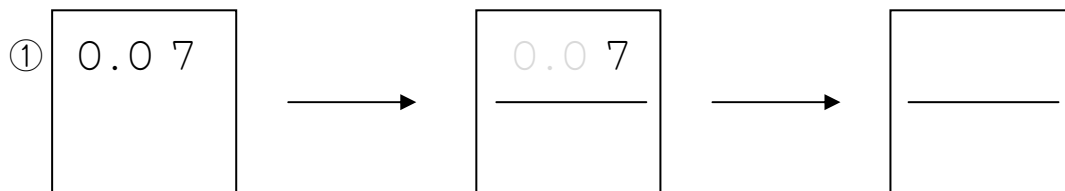
4

0.03 も おなじ やりかたで しょうすうに なおすことが
できます。

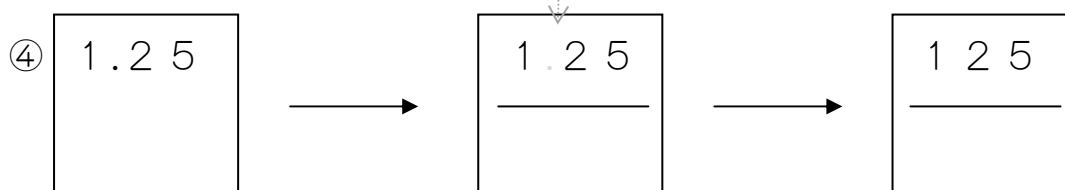


したに 100 をかきます。そして、0.03 の 0.0 を とります。

この やりかたで、つぎの しょうすうを ぶんすうに なおし
ましょう。



0 ではないので、. だけを とります。



□にはいる かずは いくつですか。

$$4 \div 1 = 4$$

$$4 \div 1 = \frac{\square}{\square}$$

4 ÷ 1 の こたえは 4 ですから、4 と $\frac{4}{1}$ は おなじです。

つぎの □にはいる かずは いくつですか。

$$\textcircled{1} \quad 5 \div 1 = \frac{\square}{\square} \Rightarrow \frac{\square}{\square} = 5$$

$$\textcircled{2} \quad 6 \div 1 = \frac{\square}{\square} \Rightarrow \frac{\square}{\square} = \square$$

$$\textcircled{3} \quad 9 \div 1 = \frac{\square}{\square} \Rightarrow \frac{\square}{\square} = \square$$