



8課
ようごとぶん

Unidad 8
Palabra y Frase

ようご	Palabra
でんたく	calculadora
わりきれない	división no exacta / indivisible
なんばい	cuántas veces / cuántos

ぶん	Frase
でんたくでけいさんする。	Utiliza la calculadora.
4mは2mのなんばいですか。	¿Cuántas veces 2 metros son 4 metros? (¿Cuántas veces caben 2 metros en 4 metros?)

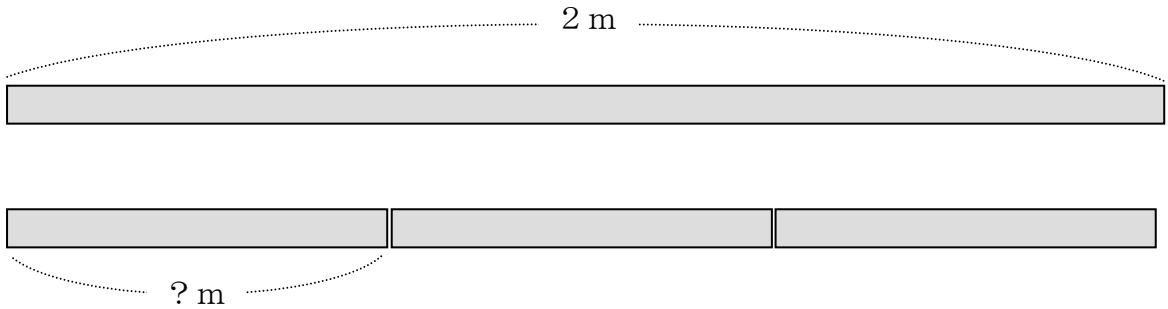


8 わりざんと ぶんすう

1

整数どうしの割り算で割り切れない場合の答えを分数で表わすことを知る。

わりざんの もんだいです。 2 mのテープを 3 にんで おなじながさに わけると、ひとりぶんは なんmに なりますか。



しきを かくと、こうなります。 $2 \div 3 =$

$2 \div 3$ を でんたくで けいさんすると、0.66666666と なってしまいます。わりきれません。


こんなときは、こたえを ぶんすうで かきます。

$$2 \div 3 = \frac{2}{3}$$



これが
こたえです。

$$2 \div 3 = \frac{2}{3}$$



こうすると
こたえに なります。

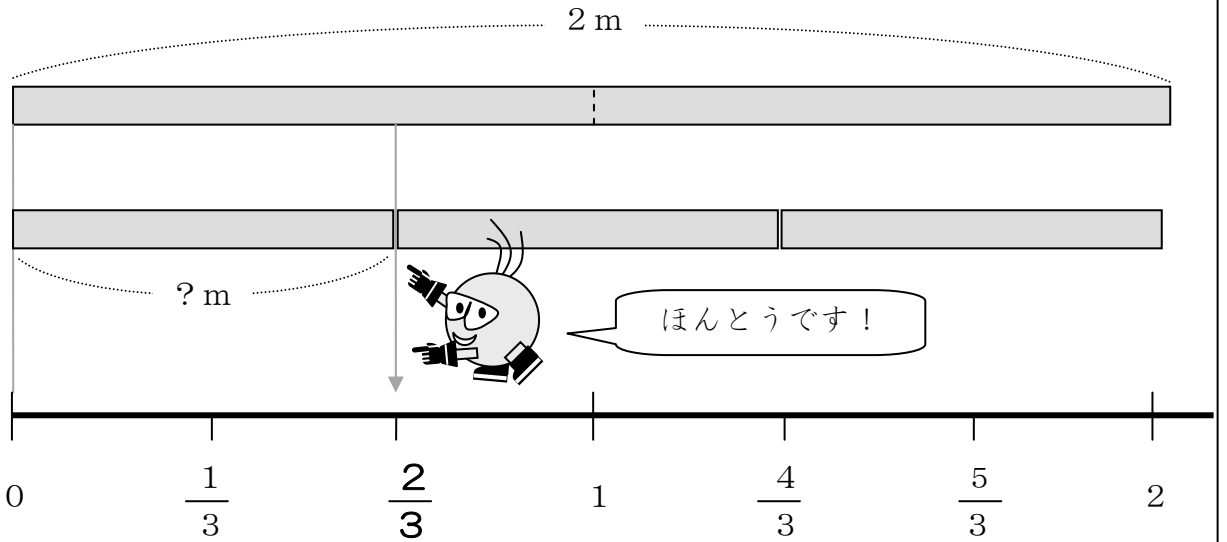
整数どうしの割り算の答えが分数で表わされることを確かめる。

2

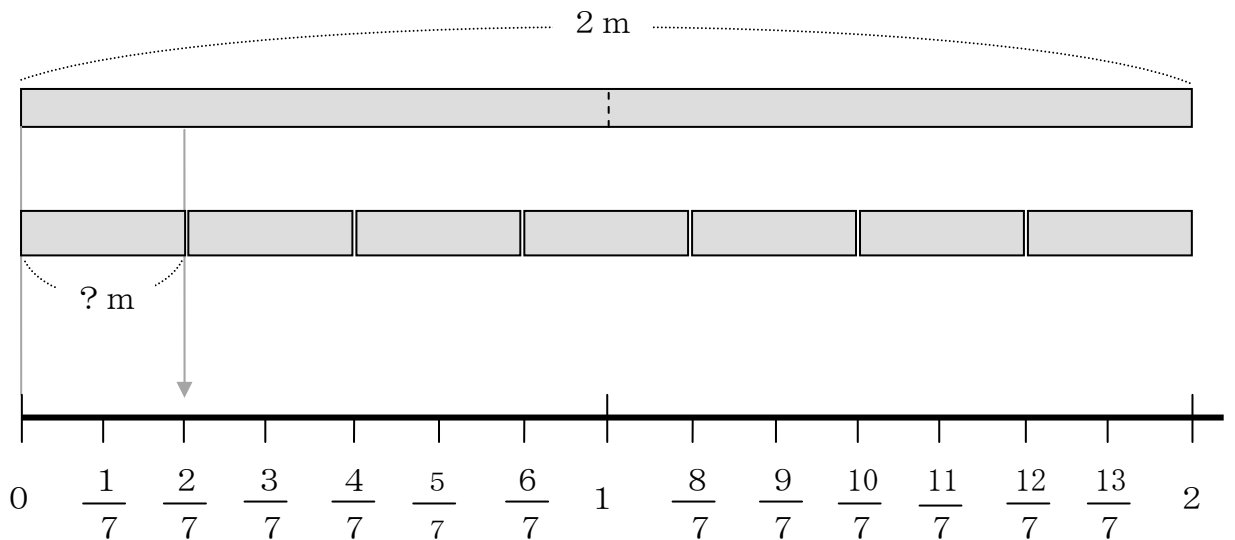
$$2 \div 3 = \frac{2}{3}$$

ほんとうに こたえは $\frac{2}{3}$ でしょうか。

ずをつかって たしかめてみましょう。



2 ÷ 7でも たしかめて みましょう。こたえは $\frac{2}{7}$ でしょうか。



3

□にはいるかずをかきましょう。

① $5 \div 9 = \frac{\square}{9}$

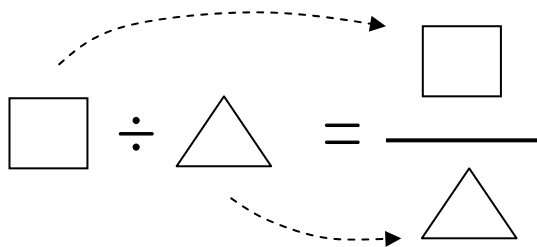
② $1 \div 3 = \frac{1}{\square}$

③ $\square \div 9 = \frac{2}{9}$

④ $2 \div \square = \frac{2}{7}$

⑤ $7 \div 9 = \frac{\square}{\square}$

⑥ $\square \div \square = \frac{5}{8}$



4

わりざんのこたえをぶんすうでこたえましょう。

① $3 \div 7$

② $2 \div 9$

③ $5 \div 3$

④ $7 \div 3$

⑤ $9 \div 2$

⑥ $28 \div 6$