



7課
ようごとぶん

Unidad 7
Palabra y Frase

ようご	Palabra
おりがみ	papel de origami
なわ	cuerda / lazo
きる	cortar
テープ	cinta
ひも	cordón
ボール	bola
かご	cesto / canasto
はん	grupo
いくつ	cuántos

ぶん	Frase
18mのなわを3mずつきると、	Al cortar una cuerda de 18m en partes de 3 m...
いくつのはんにわけられますか。	¿En cuántos grupos se podrá dividir?

7 ぶんしょうだい②

「包含除」の文章題

1

「何人に分けられるか」の問題①

24ほんのえんぴつを 6ほんずつ わけると、
なんにんに わけられますか。



24ほん わけます 6ほんずつ → なんにん？

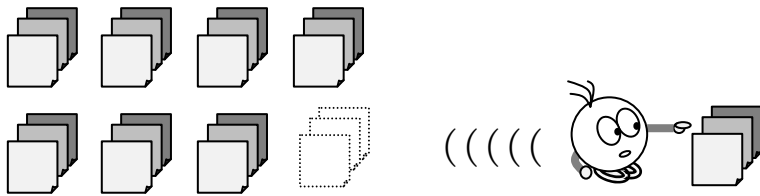
(しき) ÷ =

(こたえ)

2

「何人に分けられるか」の問題②

24まいの おりがみを 3まいずつ くばると、
なんにんに わけられますか。



(しき) ÷ =

(こたえ)

3

18mのなわを3mずつきると、
なんにんにわけられますか。



(しき)

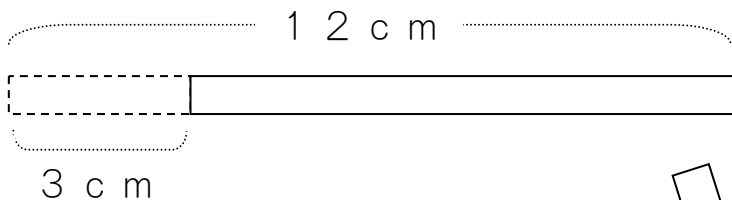
□ □ □ = □

(こたえ)



□

4

12cmのテープを3cmずつきると、
なんぼんのテープにわけられますか。



3cm



12cm

わけます

3cmずつ

→ なんぼん?

(しき)


□ ÷ □ = □

(こたえ)

ほん

5

12 cmのテープを 4 cmずつ きると、
 なんぼんの テープに わけられますか。

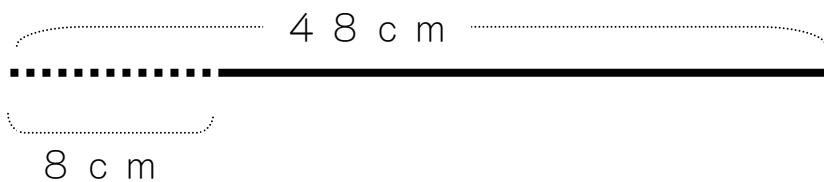


(しき) \div =

(こたえ)

6

48 cmのひもを 8 cmずつ きると、
 なんぼんの ひもに わけられますか。



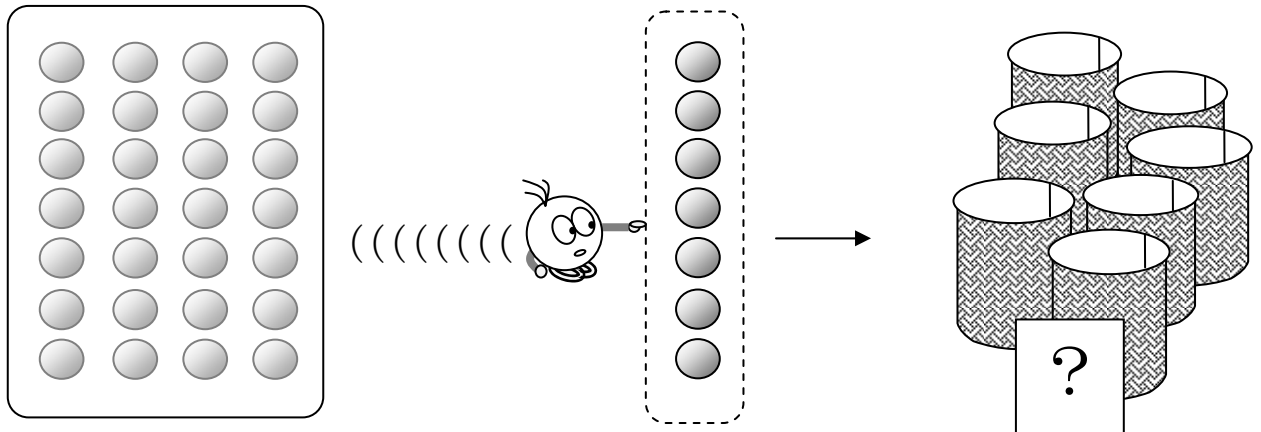
(しき) \div =

(こたえ)

7

28このボールを 7こずつ かごに わけると、
いくつの かごに わけられますか。

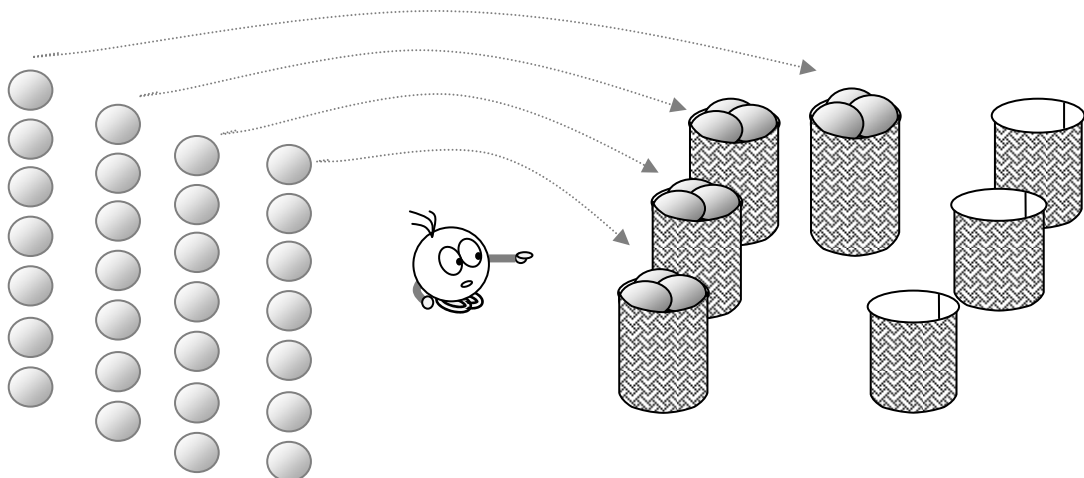
① えをみて、しきをつくりましょう。



28こ わけます 7こずつ → いくつ?

(しき) ÷ =

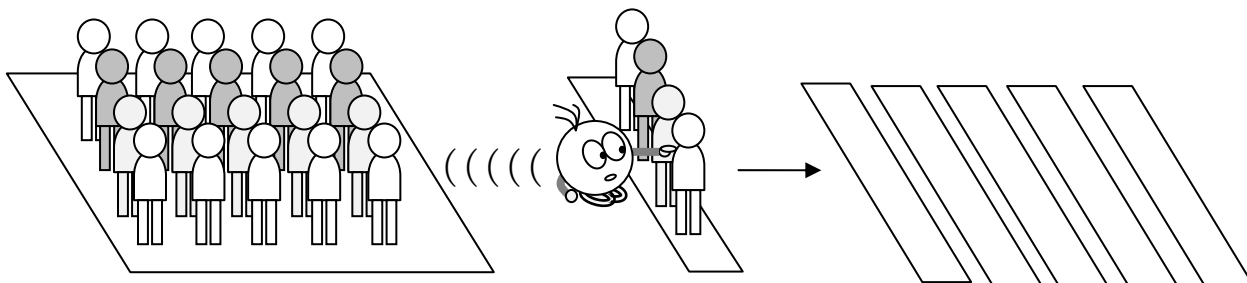
② いくつの かごに わけられますか。



(こたえ)

8

20にんを 4にんずつの はんに わけると、
いくつの はんに わけられますか。



20にん わけます 4にんずつ → いくつの はん？

(しき)

(こたえ)

9

20にんを 5にんずつの はんに わけると、
いくつの はんに わけられますか。

20にん わけます 5にんずつ → いくつの はん？

(しき)

(こたえ)